

Leçon 5

Quelle heure est-il?


Draw the hands on the clocks to show each time



Il est une heure vingt-cinq



Il est sept heure cinq



Il est minut vingt



Il est cinq heures vingt-cinq




Il est huit heures dix



Il est neuf heures vingt-cinq




Il est onze heures et quart




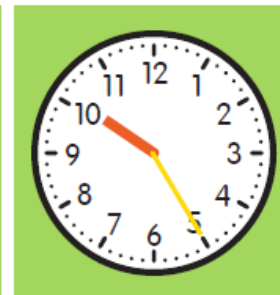
Il est trois heures vingt

Il est.....heure/s

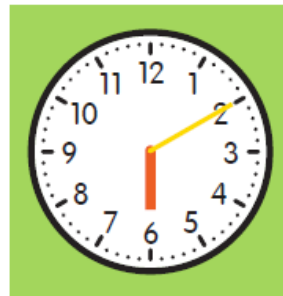

























Leçon 6

Quelle heure est-il?

Draw the hands for each time then write two of your own and draw hands in

			
Il est deux heures moins cinq	Il est quatre heures moins vingt	Il est trois heures moins dix	Il est onze heures moins vingt-cinq
			
Il est deux heures moins le quart	Il est sept heures moins cinq		

Il est.....heure/s

